

Radioaktivität, die natürlichste Sache der Welt

6. Mai 2014

Inhaltsverzeichnis

1	Vorwort	2
1.1	Physik macht Spaß! Oder?	2
1.2	Grundsätze des Strahlenschutzes	2
2	Grundwissen für dieses Experiment	3
2.1	Historisches zur radioaktiven Strahlung	3
2.2	Das Geiger-Müller-Zählrohr	4
2.3	Ablenkung geladener Teilchen im Magnetfeld	4
3	Die Experimente	6
3.1	Bestimmung der Nullrate	6
3.2	Untersuchung der Radioaktivität verschiedener Stoffe	7
3.3	Abschirmung von Kernstrahlung	8
3.4	Ablenkung der Strahlung im Magnetfeld	9
3.5	Abstandsgesetz	10
4	Radioaktivität, die natürlichste Sache der Welt?	11
5	Quellen	11

1 Vorwort

1.1 Physik macht Spaß! Oder?

Die meisten Physik-Bücher beginnen damit, das vorhandene physikalische Wissen zum jeweiligen Thema aufzulisten. *Dieses Skript nicht.* Warum?

Neue Erkenntnisse in den Naturwissenschaften entstehen dadurch, dass man die Natur beobachtet, sie auf Basis des bereits vorhandenen Wissens mathematisch modelliert und gezielt Experimente zur Beantwortung ungeklärter Fragen durchführt.

In der Schule läuft dies jedoch häufig anders herum: Man weiß bereits, was herauskommt, und die Leistung des Lernenden Schülers oder der Schülerin besteht in vielen Fällen daraus, dass er oder sie die mathematischen Rechnungen oder die physikalischen Experimente einfach nur nachvollzieht. So wird der Prozess der naturwissenschaftlichen Erkenntnisgewinnung kaum greifbar. Die Naturwissenschaften erscheinen „statisch“, der ihnen innewohnenden kreative Prozess ist nicht erkennbar. Vielleicht ist dies ein Grund (neben anderen), warum das Fach Physik in der Schule eher unbeliebt ist.

Hier im PhysLab wollen wir Sie dazu anhalten, sich auf diesen kreativen Prozess einzulassen! Daher möchten wir die Lösungen nicht vorab verraten („Spoiler“), sondern Sie sollen selbst versuchen, durch Ihre Experimente, Diskussionen und Rechnungen möglichst viel über radioaktive Strahlung herauszufinden! Und selbst wenn Sie in der Schule schon einiges darüber gelernt haben („es gibt die ...-Strahlung, diese besteht aus ...“), so vergessen Sie diese Kenntnisse doch einmal für zwei oder drei Stunden und erarbeiten Sie sie sich durch eigenes Experimentieren selbst! Ein selbst gebackener Kuchen schmeckt ja auch besser als ein gekaufter - zumindest meistens ☺.

Und keine Sorge, falls Sie irgendwelche Probleme nicht lösen können, helfen wir Ihnen!

In diesem Sinne: Viel Spaß beim Experimentieren und Knobeln!

1.2 Grundsätze des Strahlenschutzes

Der für die Versuche vorgesehene Radium-226-Strahler, liegt mit seiner Aktivität¹ von 3,3 kBq unterhalb der in der Strahlenschutzverordnung (StrSchV) definierten Freigrenze. Damit ist der Strahler für Schülerexperimente zugelassen, dennoch müssen die folgenden Strahlenschutzgrundsätze eingehalten werden, was nur durch einen umsichtigen Umgang mit dem Strahler erreicht werden kann.

Wegen der Gefahren muss mit strahlenerzeugenden Einrichtungen und radioaktiven Stoffen besonders sorgfältig umgegangen werden. Die wichtigsten Grundsätze des Strahlenschutzes sind (Paragraph 28 StrSchV):

- Jede unnötige Strahlenexposition oder Kontamination von Personen, Sachgütern oder der Umwelt ist zu vermeiden.
- Jede Strahlenexposition oder Kontamination von Personen, Sachgütern oder der Umwelt, unter Beachtung des Standes von Wissenschaft und Technik und unter Berücksichtigung aller Umstände des Einzelfalles, auch unterhalb der in der Strahlenschutzverordnung festgesetzten Grenzwerte, ist so gering wie möglich zu halten.

¹Die Einheit der Aktivität ist Becquerel (Bq); dies sind Zerfälle pro Sekunde.

Die **wichtigsten Schutzmaßnahmen** gegen eine äußere Bestrahlung sind:

- eine möglichst gute Abschirmung,
- ein möglichst großer Abstand von der Strahlenquelle,
- eine möglichst kurze Aufenthaltsdauer im Bereich der Strahlung.
- **In der Nähe der Strahlenquelle wird nicht gegessen, getrunken und geraucht! Nach Beendigung des Experimentierens sind die Hände zu waschen!**

Es sei allerdings angemerkt, dass der von uns verwendete Strahler nur eine sehr geringe Intensität hat und außerdem „geschlossen“ ist, d.h. die radioaktive Substanz ist fest in eine Schutzhülle eingepackt. Eine Gefährdung von Personen ist daher praktisch ausgeschlossen.

Dennoch:

Es ist gut, sich *immer* an diese Grundsätze des Strahlenschutzes zu halten!

2 Grundwissen für dieses Experiment

Jedes Experiment basiert auf einem Vorwissen, das man haben muss, um das Experiment zu entwickeln oder zumindest seinen Zweck und Ablauf zu verstehen. In diesem Teil des Skripts verraten wir Ihnen, welches Wissen Sie brauchen, um das Experiment erfolgreich durchzuführen und auszuwerten.

2.1 Historisches zur radioaktiven Strahlung

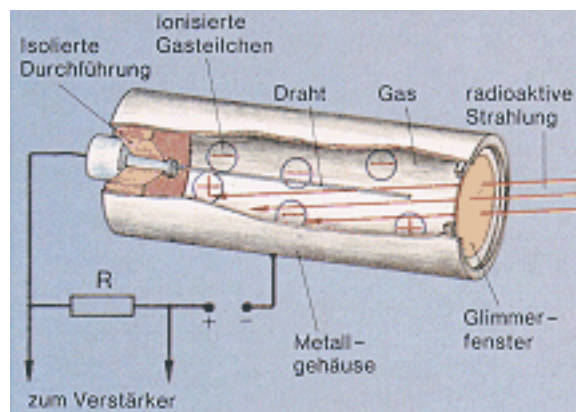
1886 wurde von dem französischen Physiker Henri Becquerel bei der Untersuchung von Uransalzen zufällig die Radioaktivität entdeckt. Er stellte fest, dass lichtempfindliche, fotografische Materialien, welche in schwarzem Papier verpackt waren, durch eine bis dahin unbekannte Strahlung, die von den Uransalzen ausging, belichtet wurden. Ausgehend von Becquerels Entdeckungen untersuchten das Ehepaar Marie und Pierre Curie in systematischer Kleinarbeit alle damals bekannten Elemente auf Radioaktivität. Es gelang ihnen, die damals noch unbekanntesten Elemente Radium und Polonium aus Pechblende² zu isolieren. Diese beiden Elemente fielen durch ihre hohe Strahlung auf. Man konnte mehrere Strahlungsarten unterscheiden und bis zum Jahr 1908 konnten die wichtigsten Eigenschaften dieser verschiedenen Strahlungsarten geklärt werden.

Das Ziel des heutigen Tages ist es, möglichst viel über „radioaktive Strahlung“ herauszufinden. Wir wollen die verschiedenen Strahlungsarten klassifizieren, d.h. beschreiben, welche Eigenschaften die jeweilige Strahlung hat.

²Pechblende oder Uraninit ist ein natürlich vorkommendes Mineral, das im Wesentlichen aus Uranoxiden besteht und in dem in geringerer Konzentration auch andere radioaktive Elemente enthalten sind.

2.2 Das Geiger-Müller-Zählrohr

Unser Detektor für radioaktive Strahlung ist ein so genanntes „Geiger-Müller-Zählrohr“. Es besteht aus einem dünnen Draht, der als Anode und einem Zylindermantel, der als Kathode dient (siehe Abbildung, Quelle: s. Anhang). Zwischen Zylindermantel und dem Draht liegt eine Spannung von einigen hundert Volt an. Der Zylinder ist gasdicht verschlossen und mit einem Edelgas gefüllt.



Die in das Rohr eindringende radioaktive Strahlung setzt in der Gasfüllung Ionen frei, die zum positiven Draht (Anode) wandern. Hierbei lösen sie durch Stoßionisation eine Ionenlawine aus. Durch das Zählrohr fließt ein Stromstoß, der am Widerstand einen kurzen Spannungsabfall bewirkt. Ist ein Lautsprecher am Zählrohr angeschlossen, hört man ein kurzes Knacken. Der elektronische Zähler zeigt an, wie viele Signale in der jeweiligen Messzeit registriert wurden.

Bei sehr intensiver Strahlung hört man kein einzelnes Knacken, sondern so viele Knackgeräusche gleichzeitig, dass es als Rauschen wahrgenommen wird. Das Zählrohr zählt nun immer ungenauer, da es sehr schnell hintereinander kommende Signale nicht mehr trennen kann. Man kann also keine beliebig hohen Strahlungsintensitäten mit dem Zählrohr exakt messen, was für uns allerdings unwichtig ist, da wir sowieso nicht mit so hohen Aktivitäten arbeiten.

Eine weitere Eigenschaft schränkt die Aussagekraft der angezeigten Zählrate ein: Das Zählrohr kann nur den Anteil der Strahlung registrieren, der tatsächlich innerhalb des Zählrohres Gasteilchen ionisiert. Strahlung, die im Zählrohr nichts bewirkt, wird auch nicht gezählt. Doch auch dies ist für unser Experiment kein Problem - die Empfindlichkeit des Zählrohres reicht für unsere Zwecke völlig aus.

2.3 Ablenkung geladener Teilchen im Magnetfeld

Bewegen sich geladene Teilchen in einem Magnetfeld, so werden sie durch die Lorentz-Kraft seitlich abgelenkt (s. Abb. 1³). Dies ist die Grundlage jedes Elektromotors und jedes Dynamos.

Die Richtung der Lorentz-Kraft lässt sich gemäß der Rechten-Hand-Regel bestimmen: Zeigt der Daumen in die Bewegungsrichtung der positiven Ladungsträger und (senkrecht hierzu) der Zeigefinger in Richtung des Magnetfeldes, so zeigt der Mittelfinger (senkrecht zu den beiden anderen Fingern gehalten) in Richtung der Lorentz-Kraft. Sind die Ladungsträger nicht positiv, sondern negativ geladen, so dreht sich die Richtung der Lorentzkraft um.

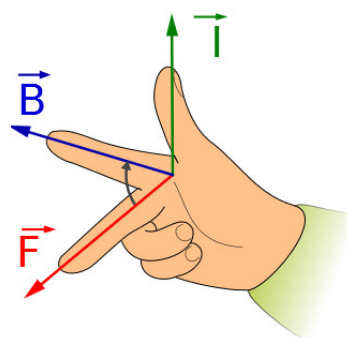
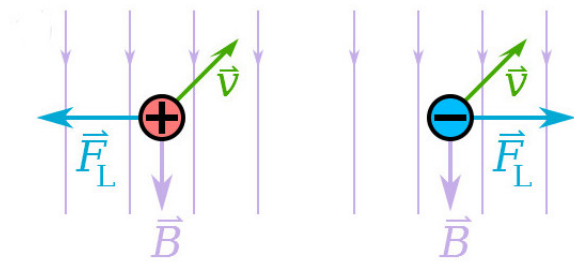


Abbildung 1: Rechte-Hand-Regel

³Bildquelle: <http://commons.wikimedia.org/wiki/File:Rechte-Hand-Regel.svg>



Bewegen sich unterschiedlich geladene Teilchen in einem Strahl durch ein Magnetfeld, so fächert dieser Strahl auf.

Werden beispielsweise die positiven Ladungsträger nach links abgelenkt, so werden die negativen nach rechts angelenkt (s. Abb. 2⁴). Die neutral geladenen Teilchen bewegen sich weiterhin geradeaus.

Abbildung 2: Ablenkung positiv und negativ geladener Teilchen im Magnetfeld

⁴Bildquelle: http://de.wikipedia.org/wiki/Datei:Lorentzkraft_positiv_negativ_de.svg

3 Die Experimente

3.1 Bestimmung der Nullrate

Beschreibung des Aufbaus und der Durchführung der Messungen

- Schließen Sie das Zählrohr an das Messgerät an, schalten Sie den Zähler und stellen Sie ihn mit der „0“-Taste zurück!
- Beginnen Sie die Messung (Messzeit: 60 Sekunden) durch drücken der „Start“-Taste, beenden Sie sie durch drücken der „Stopp“-Taste!
- Wiederholen Sie die Messung dreimal! Aus den drei Messungen wird der Mittelwert berechnet.

Messwerte und Auswertung

Nummer der Messung	1	2	3
Zählrate N_0			
Mittelwert N_0^{60s}			
Mittlere Nullrate für 20 s: N_0^{20s}			

Aufgabe:

Erläutern Sie, warum eine Mittlung der Messwerte sinnvoll ist!

3.2 Untersuchung der Radioaktivität verschiedener Stoffe

Beschreibung des Aufbaus und der Durchführung der Messungen

- Untersuchen Sie die in der Tabelle genannten Gegenstände mit dem Zählrohr (Messzeit: 20 Sekunden)!

Messwerte und Auswertung

Gegenstand	Glühstrumpf	Keramiktopf	Stein	Uhr
Zählrate N				
$N - N_0^{20s}$				

Aufgabe:

Was fällt Ihnen auf? Notieren Sie es hier in Stichworten!

3.3 Abschirmung von Kernstrahlung

Beschreibung des Aufbaus und der Durchführung der Messungen

- Stecken Sie den Strahler mit Hilfe der Halterung in die Experimentierplatte, Abstand zum Zählrohr etwas mehr als 1 cm!
- Bringen Sie verschiedene Absorbermaterialien in den Strahlengang (vgl. Tabelle) und bestimmen Sie die Zählrate für jeweils 20 Sekunden.
- Ziehen Sie von diesen Messwerten die Nullrate ab!

Messwerte und Auswertung

Anzahl Bögen	Papier		Dicke d in mm	Aluminium		Blei	
	N	$N - N_0^{20s}$		$N(d)$	$N(d) - N_0^{20s}$	$N(d)$	$N(d) - N_0^{20s}$
0			0 mm				
1			2 mm				
2			4 mm				
3			6 mm				
6			8 mm				
9			10 mm				

Aufgabe:

Fertigen Sie für die Messwerte von Aluminium und Blei ein Diagramm $N(d)$ an!

Treffen Sie eine Aussage über die Wirksamkeit der bei der Abschirmung verwendeten Materialien! Liefern die Messwerte bereits Hinweise auf verschiedene Strahlungsarten? (Falls Sie keine Idee hierzu haben, fragen Sie Ihre/n Betreuer/in!)

3.4 Ablenkung der Strahlung im Magnetfeld

Beschreibung des Aufbaus und der Durchführung der Messungen

- Stecken Sie den Strahler mit Hilfe der Halterung in die Experimentierplatte, Abstand zum Zählrohr ca. 6 cm!
- Messen Sie die Zählrate in verschiedenen Winkeln (Messdauer: 20 Sekunden)! Ziehen Sie die Nullrate von der Zählrate ab!
- Setzen Sie die Magnete ein, *ohne dabei die Position des Strahlers zu verändern*, und wiederholen Sie die Messungen!

Messwerte und Auswertung:

Winkel φ	45^0	30^0	15^0	0^0	-15^0	-30^0	-45^0
Zählrate $N(\varphi)$ ohne Magnetfeld							
$N(\varphi) - N_0^{20s}$							
Zählrate $N_{mag}(\varphi)$ mit Magnetfeld							
$N_{mag}(\varphi) - N_0^{20s}$							

Aufgabe:

Was fällt Ihnen bei den Messwerten auf? Ist die Strahlung geladen oder ungeladen? Falls sie geladen ist: Welches Vorzeichen trägt ihre Ladung? Diskutieren Sie im Team, wie man (z. B. mit den Erkenntnissen aus Abschnitt 3.3) weitere Erkenntnisse über die Natur der gemessenen Strahlung gewinnen könnte! Führen Sie ggf. weitere Messungen durch und deuten Sie die Messwerte! (Falls Sie keine Idee haben, welche weiteren Messungen sinnvoll sind, fragen Sie Ihre/n Betreuer/in!)

3.5 Abstandsgesetz

Beschreibung des Aufbaus und der Durchführung der Messungen

- Stellen Sie Zählrohr und Strahler in einem sinnvollen Abstand r voneinander auf die Experimentierplatte!
- Nehmen Sie zwei Messwerte auf – den ersten für die Entfernung r , den zweiten für die doppelte Entfernung $2r$ (Messzeit 20 Sekunden)!

Auswertung der Messungen

Gewählt sei $r = \underline{\hspace{2cm}}$ cm.

Messwerte:

$$N(r) = \underline{\hspace{2cm}} \text{ Imp./20s} \quad N(r) - N_0^{20s} = \underline{\hspace{2cm}} \text{ Imp./20s}$$

$$N(2r) = \underline{\hspace{2cm}} \text{ Imp./20s} \quad N(2r) - N_0^{20s} = \underline{\hspace{2cm}} \text{ Imp./20s}$$

Aufgabe:

Welche Gesetzmäßigkeit lässt sich aus den Messergebnissen folgern? Wie passt das zu den empfohlenen Schutzmaßnahmen im Abschnitt 1.2?

4 Radioaktivität, die natürlichste Sache der Welt?

Der Titel unseres Skriptes suggeriert, Radioaktivität wäre „ganz natürlich“ und sowieso schon „immer bei uns“ gewesen.

Das stimmt auch.

Aber gleichzeitig stimmt es auch nicht! Viele radioaktive Strahler, die uns heutzutage umgeben, sind vom Menschen künstlich hergestellt, d.h. sie stammen aus Kernwaffen, aus Kernkraftwerke oder aus der Medizintechnik. Das ist insbesondere bei relativ kurzlebigen radioaktiven Strahlern der Fall, wobei „kurzlebig“ hier relativ zum Erdalter zu sehen ist: Die Erde gibt es seit über 4 Milliarden Jahren. Strahler mit kurzen Halbwertszeiten, die zur Entstehung der Erde noch vorhanden waren, sind längst nahezu vollständig zerfallen. (Auch eine Halbwertszeit von 1000 Jahren wäre in diesem Sinne „kurz“.) Man findet sie nur dann noch auf der Erde, wenn sie in einer Zerfallsreihe eines längerlebigen Isotops auftreten - oder wenn sie eben vom Menschen künstlich erzeugt worden sind.

Radioaktivität ist kein Spielzeug! Sie ist hoch gefährlich!

Doch in kleinen Mengen war sie schon zu Zeiten des ersten Urmenschen vorhanden. So gesehen ist sie „die natürlichste Sache der Welt“...

5 Quellen

Metzler; Physik, Schroedel Verlag GmbH, Hannover 1998

Phywe; Versuchsthemen Radioaktivität, Industrie-Druck GmbH, Göttingen 1986

Bildquelle der Abbildung des Zählrohres:

http://zope.reaktor.fh-furtwangen.de/portal/natural_sciences/nuclear_sciences/lecture%20%20radiation%20physics/grundlagen_strahlenphysik/strahlungsarten.html
(Stand: war am 5.3.2014 nicht mehr im Netz)